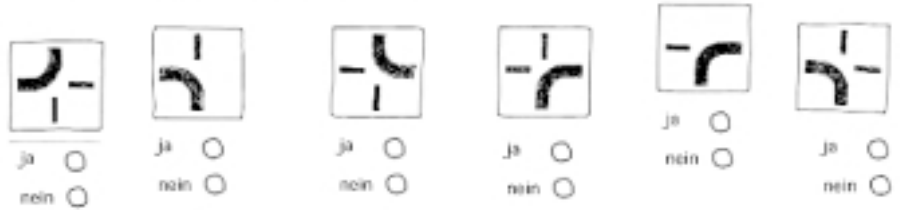
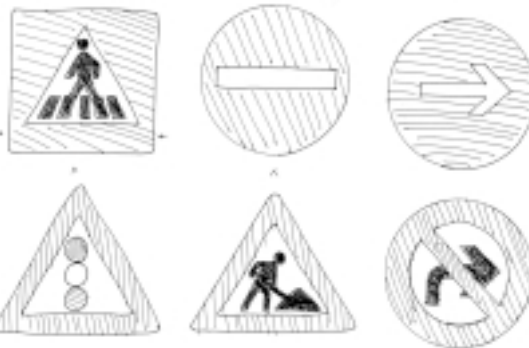
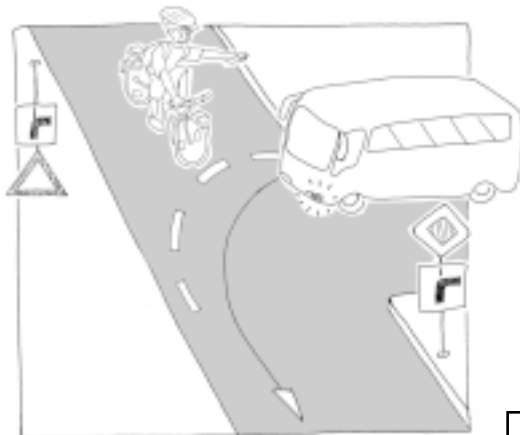





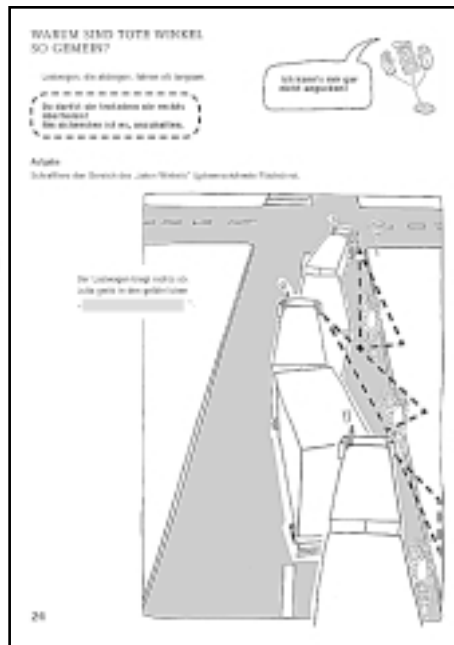

Aufgabe 1
Befindest du dich auf der Vorfahrtsstraße? Kreuze an.



Sie stehen immer in Verbindung mit diesen beiden Schildern.



- Das sichere Fahrrad
- Der Fahrradhelm
- Das Straßenverkehrssystem
Einteilung der Straße
- Verkehrszeichen richtig kennen
Fahrenzeichen



- Wer hat Vorfahrt?
Wann gilt die Vorfahrt?



- Das Hindernis
Was ist ein Hindernis?
- Linksabbiegen
Der Acht-Punkte-Weg
- Notruf absetzen
- Ausschneidebögen

